

---

# GRADE 3-5 CHINESE READING ASSESSMENTS

---

2017 MI-LMU STARTALK INFRASTRUCTURE PROGRAM



## Contents

<b>Grade 3 Language Arts Assessments</b> .....	<b>02</b>
<b>Grade 3 Social Science Assessments</b> .....	<b>13</b>
<b>Grade 3 Math Assessments</b> .....	<b>24</b>
<b>Grade 4 Language Arts Assessments</b> .....	<b>33</b>
<b>Grade 4 Social Science Assessments</b> .....	<b>47</b>
<b>Grade 4 Math Assessments</b> .....	<b>59</b>
<b>Grade 5 Language Arts Assessments</b> .....	<b>67</b>
<b>Grade 5 Social Science Assessments</b> .....	<b>80</b>
<b>Grade 5 Math Assessments</b> .....	<b>91</b>

# 三年级阅读测试

三年级中文考试

姓名: \_\_\_\_\_ 日期: \_\_\_\_\_

请你读这篇短文然后再回答问题。

在空中发光的太阳

太阳的光和热温暖了地球。太阳的光和热让(ràng)水变成空气，最后到很高的天空变成(biànchéng)云。风吹着云。当云遇到(yùdào)冷风的时候，就会变成雨滴(dī)掉到地上。

植物需要(xūyào)阳光和雨滴才能生长。植物上的水果和蔬菜(shūcài)也需要阳光来帮助它们生长。小男孩需要吃东西才能生长，并且得到能量(néngliàng)。他吃的东西主要也是来自于太阳的光和热。

我们读书、吃饭、说话、跑步和玩儿的能量都从太阳来。在空中发光的太阳给我们光照亮(zhàoliàng)夜晚。所有的动物和植物都需(xū)要在空中发光的太阳。

-----  
摘自“在空中发光的太阳” published by Cheng & Tsui (2015)

一、选择题：请读问题选择最好的答案。

例题：我们住在哪里？（ B ）

A. 太阳      B. 地球      C. 火星      D. 月亮

1. 云遇到什么会变成雨？（                      ）

A. 光和热      B. 太阳      C. 水      D. 冷风

2.      太阳可以给人类什么？（                      ）

A. 能量      B. 重量      C. 能力      D. 数量

3. 在短文里，哪一个词告诉我们太阳很重要？（                      ）

A. 遇到      B. 生长      C. 变成      D. 吹着

二、填空题：请从下面选择正确的词语。

例题： 妈妈的爸爸是\_\_B\_\_\_\_\_。

A. 舅舅          B. 外公          C. 外婆          D. 爷爷

4. 水果和蔬菜需要\_\_\_\_\_和\_\_\_\_\_来帮助它们生长。（）

A. 动物，植物    B. 阳光，雨    C. 空气，云    D. 天空，太阳

5. \_\_\_\_\_ 不是从太阳的光和热来的。

A. 雨          B. 海          C. 植物          D. 蔬菜

三、简答题：请用句子或短语回答问题。

例题：你叫什么名字？          我叫王小明。

6. 为什么太阳对我们很重要？请写出 2 个理由(lǐyóu)。

---

---

7. 如果没有太阳，你的生活会变成怎样？请写出 2 个例子。

---

---

8. 为什么这篇短文的题目是“在空中发光的太阳“？

---

---

请你看短文，回答问题。

## 雪花

冬天了，下雪了，到处都是白茫茫（máng máng）的。友友出门了，因为他要去寻（xún）找春天。走啊走，前面出现了高山。友友只好向山上爬，爬得很高很高。突然有很多雪球滚（gǔn）下来，友友只好奔（bēn）跑着躲避（duǒ bì）它们。但是，一个雪球打到友友，挡（dǎng）住了他的路。友友陷（xiàn）在雪地里，没有办法走路。

雪花不停的落下来，地面上的雪越来越（yuè）深。友友非常害怕，因为他觉得越来越冷，他也觉得越来越饿（è）。友友心里想，他永远（yǒng yuǎn）不能找到春天了，他永远（yǒng yuǎn）不能回家了。

这时，突然雪开始（kāi shǐ）融化（róng huà）了，友友觉得冬天已经过去了！他发现，有一根蜡烛（là zhú）站在自己前面。蜡烛看见友友很温暖。蜡烛觉得很快乐，因为它终于（zhōng yú）给人带来了温暖。

摘自<雪花的联想>Published by 湖南少年儿童出版社，2007

选择题：请读问题，选择正确的答案

例题：

短文里面在说什么季节？（ D ）

A 春天                  B 夏天                  C 秋天                  D 冬天

1. 这个短文主要说了什么？（                  ）

- A 春天来了雪融了
- B 友友去找春天，一根蜡烛给他温暖
- C 友友看见一个大雪球很害怕
- D 蜡烛很开心，因为它找到了春天

2. 在这个故事里，为什么友友突然觉得很温暖？（                  ）

- A 因为蜡烛很快乐
- B 因为雪融化了
- C 因为蜡烛在他前面
- D 因为雪越来越深

填空题：请从下面选择正确的词语（每题一分）

例题：我\_\_是\_\_小学生。

3. 这个短文的题目（名字）是《\_\_\_\_\_》。

4. \_\_\_\_\_ 蜡烛给人带来了温暖，所以它很快乐。

5. 请把下面的三个句子按照短文内容排列顺序。请写数字：\_\_\_\_，

\_\_\_\_， \_\_\_\_

- A 友友觉得很温暖
- B 友友出门去找春天
- C 友友觉得非常害怕

6. 蜡烛是\_\_\_\_\_。

- A 让人觉得很温暖的东西
- B 可以吃的东西
- C 让人觉得很冷的东西

简答题：请用句子或短语回答问题。

7. 你认为友友为什么会看见蜡烛？

---

---

---

8. 在下雪很冷的时候，你会做什么让自己很温暖呢？为什么？

---

---

---

9. 短文第一段 (duàn) 说什么？请你用至少 2 个图片画，或者自己的句子写下来。

A	B
---	---



请你看短文，再回答问题。

### 松(sōng)鼠

松鼠看起来可爱而且也非常活泼(pō)。当你以为它还在树上的时候，它早就飞跳下来，藏(cáng)在树后面，露(lù)出一颗头来到处看看，然后又像变魔术

(móshù)一样不见了。在树上走的时候，棕色的长尾巴能帮助它不要掉下来。

秋天时，它会把食物藏(cáng)在树洞(dòng)里，准备(zhǔnbèi)用来过冬。它不

冬眠(mián)，只是睡得比较多，而且很少出来活动，大多只是去藏食物的地方。

有时候在树洞里你会看见很多松鼠忘记(wàngjì)的食物，因为它常常会忘记自己把食物藏在哪儿。松鼠很爱吃，在果子还没有掉下来之前，就会把它们先摘(zhāi)下来吃。

课文选自 animaux de la foret 译本 published by Hsiao-Chun Publishing Co., Ltd. (2000)

选择题：请读问题，选择正确的答案。

例题：这篇短文在形容哪种动物？（            ）

① 小狗    B 松鼠        C 兔子        D 蛇

1. 松鼠看起来怎么样？（            ）

A. 漂亮        B 好笑            C 可爱            D 好棒

2. 什么东西可以帮助松鼠不要从树上掉下来？（            ）

A 尾巴        B 身体            C 头              D 牙齿

填空题：请从下面选择正确(què)的词语。

例题：爸爸喜欢游泳  B  喜欢睡觉，可是不喜欢唱歌。

① 但是        B 也            C 因为        D 所以

3. 这句话“它早就飞跳下来”在形容(xíngróng)松鼠非常的\_\_\_\_\_。  
A 高            B 小            C 快            D 胖

4. 冬天的时候松鼠会\_\_\_\_\_。  
A 爬得比较远    B 跳得比较高    C 走得比较快    D 睡得比较多

简答题：请用完(wǎn)整(zhěng)的句子或短语回答问题。

5. 为什么松鼠不见的时候会像变魔术一样？

---

---

---

6. 作者为什么会说松鼠很爱吃？

---

---

---

请你看短文，再回答问题。

### 成语故事：井底之蛙

一口古井(jǐng)里住一只青蛙，它每天的生活都是在古井里。每天它只摸(mō)得到井的墙(qiáng)；只看得见井口上面的天空。有一天，一只从海里来的大乌龟来到了这口井喝水。

青蛙就对海龟说：「我的井最好了！又大又有趣。你看我住在这里多快乐！我在这里自由自在。你为什么不到井里来玩呢？」那海龟听了青蛙的话，很想进去这口井里看看。但是井口太小了，海龟进不去。海龟就把大海的情况(qíngkuàng)告诉青蛙说：「你看过海吗？海非常大，不但很大，而且还很深(shēn)，可以看到不同的景色。住在那样的大海里，才是真正的快乐呢！」

井里的青蛙听了海龟说大海，吓(xià)一跳。然后青蛙问海龟：「天有多大？」海龟回答说：「天非常大，大得没有边。」青蛙不相信，它说：「你说错了，天就只有井口那么大，为什么你会说没有边？难道天比井口大？」海龟听见之后，大笑着说：「你一直都住在井底，怎么知道外面的世界(shìjiè)有多大呢？」

后来，人们就照这个故事得到「井底之蛙」这个成语(chéngyǔ)，用来形容(xíngróng)那些没有很多知识(zhīshì)的人。



一口井

文章摘自 <http://bookmarks.tw/idiom/archives/71>

一. 选择题: 请读问题, 选择正确(què)的答案。

例题:

这个故事的主角是谁? ( A )

A 青蛙      B 海龟      C 古井      D 大海

1. 大海龟去这口井做什么? (            )

A 喝水      B 玩水      C 游水      D 找青蛙玩

2. 海龟是先跟青蛙说大海的情况(qíngkuàng)还是天的情况?故事里哪一个连词告诉你答案的? (            )

A 而且      B 虽然      C 然后      D 因为

3. 下面哪一个句子不是在说 " 住在大海里才是真的快乐 " ? (            )

A 因为海有不同的景色                      B 因为海比天大  
C 因为海很大                                      D 因为海很深

二. 填空题: 请从下面选择正确(què)的词语。

例题: 因为青蛙喜欢游泳,  B  住在井里。

A 但是      B 所以      C 而且      D 不但

4. 青蛙在井里很快乐。 \_\_\_\_\_ 是快乐的相反词/反义词。

A 开心      B 伤心      C 高兴      D 享受(xiǎngshòu)

5. 在第二段里，海龟想要进去那一口井，因为\_\_\_\_\_。

A 海龟从来没有进去过一个井 B 海龟觉得青蛙很奇怪

C 海龟想要进去睡觉

D 青蛙把井说得非常棒

三. 简答题: 请用完整的句子或短语回答问题。

例题: 妹妹的爱好是画画，因为她可以每次画不同的东西，而且她喜欢涂颜色。

为什么妹妹喜欢画画?

妹妹喜欢画画因为她喜欢涂颜色和画不同的东西。

6. 为什么青蛙听到海龟说大海会吓一跳?

---

---

---

7. 你想要做一个 " 井底之蛙 " 吗? 为什么?

---

---

---

三年级社会科学考试

姓名：\_\_\_\_\_ 日期：\_\_\_\_\_

请你读这篇短文然后再回答问题。

嫦娥奔(bēn)月

传说以前天上有十个太阳，人们没有办法生活下去。天神看了很难过，于是派后羿(hòuyì)去帮助大家。后羿是一个力气很大的人，他一口气射下了九个太阳，只留下一个太阳。天神很高兴，就给了后羿一颗仙药(xiānyào)，吃了药可以永远不会死。后羿的妻子嫦娥(chángé)是一个美丽善良的姑娘。有一天一个坏人到后羿家，想要偷这颗药。嫦娥看见坏人(huàirén)，不想让坏人拿到药，于是急忙把药吃了。这天是八月十五日。嫦娥吃了药后，就飞到月亮里，再也回不来了。后来，每年八月十五日，人们就会吃月饼来纪念(jìniàn)嫦娥。这就是中秋节的由来(yóulái)。

一、选择题：请读问题选择正确的答案。

例题：传说以前天上有几个太阳？（ B ）

A 一个      B 十个      C 九个      D 八个

1. 在故事里 为什么人们没有办法生活？因为（      ）

A 大家很穷      B 有很多坏人      C 有十个太阳      D 有后羿

2. 为什么坏人要偷后羿的药？因为

A 可以不会死      B 很好吃      C 生病会好      D 可以卖

3. 后羿是一个怎样的人? ( )

A 坏人 B 有神力的人 C 勇敢的人 D 吃药的人

二、填空题: 请从下面选择正确的词语。

例题: 妈妈的爸爸是 B 。

A 舅舅 B 外公 C 外婆 D 爷爷

4. 天神知道人们没办法生活, 心里感到很\_\_\_\_\_。

A 伤心 B 开心 C 失望 D 痛苦

5. 嫦娥是一个\_\_\_\_\_的女孩。

A 会射箭 B 爱帮助别人 C 心地善良 D 力气很大

6. 在中秋节人们吃月饼时会想到谁? ( )

A 天神 B 坏人 C 十个太阳 D 嫦娥

三、简答题: 请用句子或短语回答问题。

例题: 你叫什么名字?

我叫王小明。

7. 嫦娥为什么飞到天上？

---

---

8. 后羿怎么帮助人们？

---

---

9. 你觉得嫦娥应该吃仙药吗？为什么？

---

---

---



请你看短文，回答问题。

## 年的故事

很久很久以前，高山上有一只长得很可怕、又很爱睡觉的怪兽（guài shòu）。它叫年。它每年只醒来一天。天黑以后，年就下山找东西吃。因为年喜欢吃动物也喜欢吃人，所以天黑以后，大家都不敢出门。

有一天，天还没黑，年就下山找东西吃。可是，年听见霹啪（pī pā）的声音，它吓（xià）得跑开。年又看见一个穿红衣服的人坐在大门口，它就吓得跑回山上。大家知道年害怕什么了，所以人们就把红纸贴在大门上，又拿了许多竹子来烧（Shāo）火。那天晚上，年不敢再下山来。第二天大家出来一看，每个人都很安全，就互相说：「恭喜」（gōng xǐ）。后来，年没有再出来过。有人说年饿死了。

从这以后，每年那个晚上就叫除夕。除夕晚上，家家放鞭炮（biān pào）、吃年夜饭，家家祭祖（jì zǔ）。小孩子给长辈（zhǎng bèi）拜年，长辈给小孩子红包叫压（yā）岁钱。第二天是新年，大家互相拜年（bài nián），互相说：「恭喜！恭喜！新年好」。

摘自 美洲华语 第二册 《年的故事》 <http://www.mzchinese.org/>

填空题：请从下面选择正确的词语

以后	也	因为	是
----	---	----	---

例题：我\_\_是\_\_小学生。

1. 年喜欢吃动物，年\_\_\_\_\_喜欢吃人。
2. \_\_\_\_\_年很害怕，所以它跑回山上。
3. 天黑\_\_\_\_\_，年会跑下山。

选择题：请读问题，选择正确的答案

例题：故事里的怪兽叫什么名字？（ D ）

A 除夕      B 红      C 钱      D 年

4. 为什么年会下山？（            ）

A 因为它要睡觉      B 因为它很害怕

C 因为它看见火      D 因为它饿了

5. 因为年看见\_\_\_\_\_，所以它跑回山上。

A 大门口      B 吃的东西

C 穿红色衣服的人      D 天黑了

6. 年不喜欢什么？（            ）

A 红色的纸      B 睡觉      C 吃动物      D 竹子

简答题：请用句子或短语回答问题。

7. 在新年，长辈（zhǎng bèi）给小孩子的钱。这个钱叫什么？

它叫\_\_\_\_\_

\_\_\_\_\_

8. 如果你看见年，你可以做什么来吓跑它？（至少写出二个）

---

---

9. 在除夕和新年，人们会做什么？（至少写出二个）

---

---

---

请读短文，然后再回答问题。

### 孔(kǒng)融(róng)让梨

孔融小时候家里有五个哥哥，一个弟弟。

有一天，家里吃梨。一盘(pán)梨子放在大家面前，哥哥让弟弟先拿。你猜，孔融拿了一个什么样的梨？他不挑好的，不拣大的，只拿了一个最小的。爸爸看见了，心里很高兴：别看这孩子才四岁，还真懂(dǒng)事哩。就故意问孔融：“这么多的梨，又让你先拿，你为什么不拿大的，只拿一个最小的呢？”

孔融回答说：“我年纪小，应该拿个最小的；大的留给哥哥吃。”

父亲又问他：“你还有个弟弟哩，弟弟不是比你还要小吗？”

孔融说：“我比弟弟大，我是哥哥，我应该把大的留给弟弟吃。”

你看，孔融讲得多好啊。他父亲听了，哈哈大笑：“好孩子，好孩子，真是一个好孩子。”

孔融四岁，知道让梨。上让哥哥，下让弟弟。大家都很称(chēng)赞(zàn)他。

published by 贝瓦 <http://story.beva.com/20/content/kong-rong-rang-li-2>

(一) 选择题：请读问题，选择正确的答案。

例题：孔融家里有几个哥哥和弟弟？（ B ）

A 三四個      B 五個      C 六個      D 七個

1. 孔融的家里吃了什么？

A 苹果      B 香蕉      C 梨      D 草

2. 谁先拿梨?

- A 哥哥      B 弟弟      C 爸爸      D 孔融

二. 填空题: 请从下面选择正确(què)的词语。

例题: 爸爸喜欢游泳\_\_B\_\_喜欢睡觉, 可是不喜欢唱歌。

- A 但是      B 也      C 因为      D 所以

3. 孔融拿了一个\_\_\_\_\_的梨?

- A 最好吃      B 最小的      C 最大的      D 最香的

4. 爸爸看了孔融拿梨以后觉得\_\_\_\_\_?

- A 孔融很懂事      B 孔融很可爱      C 孔融很好笑      D 孔融很小

(三) 简答题: 请用完(wǎn)整(zhěng)的句子或短语回答问题。

5. 孔融为什么拿最小的梨?

---

---

---

6. 为什么大家都称赞孔融？

---

---

---

---

请你看短文，再回答问题。

## 十二生肖

玉皇大帝(yùhuángdàdì)要选十二生肖(xiàoshòu)。新年那天，他请动物来河边比赛过河，然后用到对岸(duì'àn)的先后顺序(shùnxù)选十二种动物当做十二生肖。猫和老鼠是好朋友，它们俩儿说好了，新年早上一起去河边。可是，除夕晚上老鼠睡不着，它就起来，先跑到河边去了，但是没有叫猫起床。开始比赛的时候，猫还是没出现。有各种各样的动物都来比赛。牛游得最快，但是因为老鼠踩在牛的头上，它在到对岸之前就跳到地上，所以老鼠第一名。老虎游得比牛慢一点，兔子在老虎身上，所以虎第三，兔第四。虽然龙很快，但是它飞到南海去帮助别人，所以只有得到第五名。后来蛇马羊猴鸡狗猪都照顺序过了河。玉皇大帝说：「恭喜(gōngxǐ)你们！你们十二种动物就是十二生肖了。大家到最后都没看见猫，就问：「猫怎么没来？」老鼠说：「它还在睡觉，我没叫醒它。」大家说：「啊哈！你完蛋(wándàn)了！你完蛋了！猫不会原谅(yuánliàng)你的。」

摘自美洲华语第二册《十二生肖》 <http://www.mzchinese.org/>

一. 选择题：请读问题，选择正确(què)的答案。

例题：全部有几个生肖？（ D ）

A 十          B 二          C 五          D 十二

1. 谁先到对岸(duì'àn)? （          ）

A 牛          B 老虎          C 老鼠          D 龙

2. 为什么大家觉得龙会得第一名？（          ）

A 它去帮忙          B 它会飞          C 它很会比赛          D 它很会游泳

二. 填空题: 请从下面选择正确(què)的词语。

3. 在新年, 各种各样的动物都去河边\_\_\_\_\_。

A 比赛      B 游泳      C 玩      D 跑步

4. 老鼠\_\_\_\_\_很慢, 但是它踩在牛身上, 所以它第一名。

A 睡觉      B 最后      C 因为      D 虽然

三. 简答题: 请用完整的句子回答问题。

例题: 你的爱好是什么?

我的爱好是跳舞、踢足球和画画。

5. 什么动物在开始比赛的时候没有出现?

---

---

6. 你觉得猫和老鼠以后还会不会是朋友?为什么?

---

---



## 三年级数学考试（简体字版）

姓名：\_\_\_\_\_

日期：\_\_\_\_\_

一. 选择题：请选出正确的答案。

例题：下面哪一个是对的？（ A ）

A  $4+3=7$       B.  $4-3=2$       C.  $4\times 3=13$

1. 妈妈买了 5 包糖果，每一包有 9 个糖果，请问妈妈一共买了几个糖果？（      ）

A. 45 个      B. 14 个      C. 40 个

2. 丽丽的家距离学校 3 英里。丽丽每天骑单车上学，放学后骑(qí)单车回家。请问丽丽 5 天后一共骑了几英里？（      ）

A 15 英里      B30 英里      C8 英里

3. 请选出下面数字最大的三位数。（      ）

A. 702      B. 72      C. 720

4. 下面哪一个数字是 3,512 的百位数字？（      ）

A. 1      B. 5      C. 2

5. 下面哪一个数字比 6,284 多两百？（      ）

A. 6,285      B. 6,184      C. 6,484

6. 两个三位数的数字加在一起的和是 748。请问，这两个数字是什么？  
( )

- A.  $374 + 374$       B.  $336 + 398$       C.  $370 + 309$

7. 以下的哪一个加法算式是相(xiāng)等(děng)的。( )

- A.  $242 + 127$  和  $127 + 242$       B.  $28 + 72$  和  $30 + 27$       C.  $156 - 12$  和  $155 - 10$

8. 我用一个三位数的数字来减(jiǎn)另(lìng)外(wài)一个三位数的数字。我得到的答(dá)案(àn)是 249。这两个三位数的数字是什么？( )

- A. 649 和 200      B. 500 和 251      C. 424 和 125

9. 想想看，哪一个数字最接(jiē)近(jìn)150？( )

- A. 165      B. 129      C. 139

10. 下面哪一个说了这个除法等式(děng shì)？( )

$24 \div 4$

- a. 王老师有 24 只铅笔，她要平均(píng jūn)分给(fēn gěi) 4 个小朋友。
- b. 在校车上有 24 个小朋友，有 4 个小朋友走下校车。
- c. 李老师有 24 本书，王老师又给了她 4 本书。

11. 王小丽有 27 个苹果，她把这些苹果平均 (píng jūn) 放到 3 个盒子 (hé zì) 里面。请问，每个盒子里有几个苹果? ( )



- a. 7                      b. 9                      c. 4                      d. 8

二. 填空题：请填入正确的答案。

例题：弟弟体重 10kg，爸爸的体重是弟弟的 10 倍，爸爸的体重是 \_\_\_\_\_ B \_\_\_\_\_。

- A 1000kg      B100kg      C20kg

1. 小明每个星期存\$60，5 个星期以后小明会有\_\_\_\_\_元?

- A \$60 X 5      B\$60÷5      C\$60+5

2. 8 X 4 的积是 \_\_\_\_\_。

- A 36      B12      C32

3. 438 的中文写法是\_\_\_\_\_。

4. 有三个学生在玩纸飞机比赛，他们把每一个飞机飞多远写了下来。请帮忙他们从最大到最小顺序(shùnxù)排出数字：

小花	4,892 公分
小明	2,756 公分
小琪	3,824 公分

\_\_\_\_\_ > \_\_\_\_\_ > \_\_\_\_\_

5. 请用 3, 1, 5, 7 这四个数字组合最大和最小的四位数字：

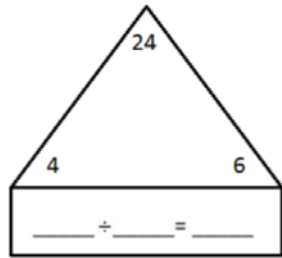
最大的四位数\_\_\_\_\_，最小的四位数\_\_\_\_\_

6. 公园里有 25 个小朋友在踢足球。公园后来又来了一些小朋友，现在公园里有 38 个小朋友在踢足球。公园里来了\_\_\_\_\_个小朋友。

7. 小兔子，小猴子和小猫一共找到了 138 个不同颜色的球。小兔子找到 98 个紫色的球。小猴子找到 21 个蓝色的球。小猫找到了\_\_\_\_\_个红色的球？

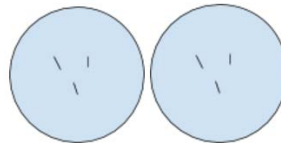
8. 在体育课 (tǐ yù kè), 18 个小朋友被平均 (píng jūn) 分成 2 个小组, 每个小组有\_\_\_\_\_人。

9. 请用下面的数字填在适当的空格里。 \_\_\_\_\_ ÷ \_\_\_\_\_ = \_\_\_\_\_



三. 应用题: 请读问题然后把答案算出来, 请用你学过的方法来表达 (biǎodá) 你的想法。

例题: 我有 2 个袋子, 每个袋子有 3 个苹果, 请问我有几个苹果?



$$3 \times 2 = 6$$

答案: \_\_\_\_\_ 6 \_\_\_\_\_

1. 张先生的农场(nóngchǎng)里有羊和牛，他有 10 只羊，他的牛是羊的 4 倍，请问张先生有几只牛？（请写出横式、竖式和答案，一共 3 分）

答案:\_\_\_\_\_

2. 一件衣服\$8，一双(shuāng)鞋(xié)子\$56，妈妈买了 2 件衣服和 1 双鞋，请问妈妈一共花了多少元？（请写出横式、竖式和答案，一共 2 分）

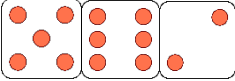
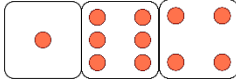
答案:\_\_\_\_\_

3. 在一个比赛，蓝队最后得了 8,147 分，红队最后得了 8,247 分。请问哪一队最后赢(yíng)了？

答案:\_\_\_\_\_

4. 美美和奇奇都喜欢收集(shōují)贴纸。美美收集了 3,964 张贴纸，奇奇收集了 3,934 张贴纸。请问谁的贴纸比较多?多了几张? (3 分 - 方法 1 分，两个答案各 1 分)

答案: \_\_\_\_\_

5. 明明和花花各有三个骰子(shǎizi)，明明丢了 ，花花丢了 。现在老师要每个人用自己丢的三个数字，排成最大的三位数，然后和旁边的人比一比。请问是花花的“最大”三位数字比较大，还是明明的“最大”三位数字比较大? (2 分)

答案: \_\_\_\_\_

6. 请按(àn)照(zhào)顺(shùn)序(xù)写出 3 个三位数的数字。每一个数字要比前面的数字多 9。

答案：\_\_\_\_\_

7. 过年的时候弟弟拿到的紅包有 \$ 125。姐姐的紅包比弟弟多 \$ 5。哥哥的紅包比姐姐少 \$ 20。哥哥拿到的紅包有多少钱？

答案：\_\_\_\_\_



8. 请用 2, 5 和 8 组(zǔ)成(chéng)不同的三位数数字。最大的数字和最小的数字差(chā)多少? 请把数学算式写出来。

答案: \_\_\_\_\_

9. 小明的妈妈做了 12 个饼干 (bǐng gān), 她要把这些饼干平均分给 6 个小朋友。请问, 每个小朋友会有几个饼干?

答案: \_\_\_\_\_

10. 上体育课 (tǐ yù kè) 的时候, 在每个小组里有 4 个小朋友, 每个小组里有一样多的小朋友。请问, 班上可能有多少小朋友? 请写出至少一个正确 (zhèng què) 的数学算式 (suàn shì) 并解答。

答案: \_\_\_\_\_

# 四年级阅读测试

## 四年级中文阅读测试

姓名：\_\_\_\_\_ 日期：\_\_\_\_\_

请你读这篇短文然后再回答问题。

### 蚂蚁会游泳吗？

一天放学回家，明明写完作业，就到院子里玩。他看到小蚂蚁从洞里爬出来，就找来一块块五颜六色的玻璃，放在蚂蚁洞口。我走过去问：“明明，你在干什么？”“我在帮蚂蚁做天窗。不然一下雨，蚂蚁洞就进水了！小蚂蚁会被淹死的。”“看看他认真的样子，我笑了：“不会的！小蚂蚁不会被淹死的。””为什么？”明明好奇地问，“难道蚂蚁会游泳吗？”“”会不会游泳，你可以试试看啊！”

于是，明明就捉了一些蚂蚁来做实验。他先把几片树叶放在小水洼里，再将几只蚂蚁扔进水里。这些蚂蚁都浮在水面上挣扎，它们发现了树叶，就很快地向树叶游去，爬上了叶子，再坐着这些“救生船”飘到没有水的地方。

明明又把几只蚂蚁放入水洼，这次没放树叶。当蚂蚁慢慢游动时，正好刮起一阵风，小蚂蚁们就被风吹到了“岸边”。

明明快乐地对我说：“瞧！蚂蚁真的会游泳！”

“是吗，”我说：“不一定吧，我看是树叶和风帮助了蚂蚁。”

“那我们找个没风的地方再试试！”

于是明明接了一盆水，在没有风的房间里做了这个实验，只见蚂蚁们挣扎了几分钟，没了力气，就沉下去了。明明赶紧把它们救出来。

通过实验，明明发现，原来蚂蚁是不会游泳的。好奇心帮助了明明，而且他努力思考，不断做实验，最后终于找到了答案。

一. 请选择正确的答案

1. 明明用什么给蚂蚁做天窗？（     ）
  - a. 树叶
  - b. 水洼
  - c. 玻璃
  - d. 房间
  
2. 挣扎在文章里的意思是什么？（     ）
  - a. 在水里用力地游
  - b. 在地上慢慢地爬
  - c. 在空中飞快地飞
  - d. 在外面高兴地跑
  
3. 五颜六色的颜色的意思是？（     ）
  - a. 红色
  - b. 绿色
  - c. 白色
  - d. 很多颜色

二. 填空

4. 明明一共做了\_\_\_\_\_ 次实验。
  
5. \_\_\_\_\_和\_\_\_\_\_帮助了蚂蚁。

三. 请回答下面的问题

6. 什么是天窗？明明为什么要给蚂蚁做一个天窗？

7. 通过实验，明明发现了什么？

8. 请将下面的句子排排顺序

- (                    ) 蚂蚁坐在“救生船”飘到没有水的地方。
- (                    ) 这些蚂蚁都浮在水面上挣扎。
- (                    ) 明明把几片树叶放在小水洼里。
- (                    ) 蚂蚁就很快地向树叶游去，爬上了叶子。
- (                    ) 明明把蚂蚁扔到水里。

9. 明明是个怎样的孩子？ 为什么？

10. 你在生活中有什么小发现吗？ 你是怎么发现的？

请你读这篇短文然后再回答问题。

### 杀鸡取卵

有个老奶奶，养了一只母鸡。这只母鸡很特别，因为它每天会下一个金蛋。这样老奶奶每天能拿到金子，就不用工作了。她什么事情都不做，天天看着这只宝贝鸡，希望它早一点下蛋。

有一天，母鸡又下了一个金蛋。老奶奶把金蛋放在手上，心里想：“这宝贝鸡一天只下一个金蛋，让我等的时间太长了。我可以杀了它，把它肚子裡的蛋全部拿出来。” 老奶奶决定以后，真的把这只宝贝鸡杀了。没想到打开肚子一看，一个金蛋也没找到。可是会下金蛋的母鸡已经死了，老奶奶很后悔，知道自己做错了。

这就是“杀鸡取卵”的故事。

#### 一. 选择题

1. 请在下面的选择中找出一个和“杀鸡取卵”的意思最相近的词语。

A: 买鸡爱鸡

B: 好吃的蛋

C: 杀鸡拿蛋

D: 金鸡取卵

2. 中国人用“杀鸡取卵”这个故事要告诉我们什么？

A: 做事情不要太着急

B: 想做什么就做什么

C: 不喜欢的动物就杀了

D: 下金蛋的母鸡不宝贵

3. 选出与“杀鸡取卵”故事的意思一样的例子。

A: 人走路太快，就走累了。

B: 人把苹果树砍掉就可以快一点拿苹果

C: 人吃饭的时候，不要吃母鸡。

D: 人跳在床上，没有注意安全。

4. 【选出最好的词】 有个老奶奶，养了一只母鸡。这只母鸡很\_\_\_\_\_，因为它每天会下一个金蛋。

A: 大

B: 快

C: 高兴

D: 重要

5. 【请选出一个形容奶奶的词】 老奶奶很\_\_\_\_\_.

A: 乐天

B: 懂事

C: 饿

D: 着急

6: 老奶奶杀了她的母鸡因为\_\_\_\_\_.

A: 老奶奶不喜欢母鸡

B: 老奶奶不想等母鸡下金蛋。

C: 母鸡没有每天下金蛋。

D: 老奶奶想吃炸鸡腿。

二. 简答题

7: 如果你有一只母鸡每天会下金蛋, 你会怎么使用它呢? 【2-3 个句子】

---

---

---



请你读这篇短文然后再回答问题。

## 国宝熊猫

到了中国，不能不去看看中国的熊猫。熊猫在中国生存了 800 多万年，现在全世界的熊猫只有不到 2000 只。北京的动物园里有个熊猫馆，里面有大大小小的熊猫，它们喜爱的事情都不一样：有的喜欢吃，有的喜欢玩，有的喜欢睡觉，还有的喜欢安静地坐着。但是它们都非常可爱，也很过人喜欢。熊猫喜欢在有竹子和水的地方生活，它们无法住在寒冷的地方。在世界各地，喜欢熊猫的人很多，特别是小孩子。人们都希望熊猫能到自己的国家来，和他们交朋友。在中国四川，有个熊猫保护区，叫卧龙自然保护区。每天都有来自世界各地的人到那里参观。在那里，你可以喂大熊猫竹子，帮忙打扫熊猫住的地方，还可以和大熊猫一起玩、一起照相。如果你到中国旅行，记得来看看这群可爱的”国宝”。

1. 到了中国，不能不去看看中国的熊猫。请问这是什么意思？（     ）
  - A. 到了中国，一定要去看看中国的熊猫。
  - B. 到了中国，不可以去看看中国的熊猫。
  - C. 到了中国，可能可以去看看中国的熊猫。
  - D. 到了中国，不想去看看中国的熊猫。
  
2. 根据文章，熊猫是什么样的动物呢？请写出两点。

---

---

3. “在那里，你可以喂大熊猫竹子”。请问那里指的是什么地方？

---

4. 什么地方可能看不到熊猫？

- A. 北京
- B. 四川
- C. 北极
- D. 有很多竹子的地方

5. 请问很讨人喜欢的”讨”是什么意思？

- A. 讨厌
- B. 让
- C. 讨论(lùn)
- D. 大

6. \_\_\_\_\_熊猫很可爱，\_\_\_\_\_全世界只有不到 2000 只了。

- A. 因为.....所以.....
- B. 不但.....而且.....
- C. 一边.....一边.....
- D. 虽然.....但是.....

7. 如果你的朋友从来没有看过熊猫，请用三句话说一说熊猫的样子。

8. 你觉得为什么熊猫是中国的国宝？

9. 现在全世界的熊猫只有不到 2000 只，我们可以怎么保护熊猫呢？ E



请你读这篇短文然后再回答问题。

### 多吃蔬菜

如果有人问你：“你喜欢不喜欢吃蔬菜和水果？”你的回答是什么呢？是不是跟很多同学一样，选择了否定的回答呢？

其实，现在很多同学都不太喜欢吃蔬菜和水果，他们喜欢吃肉，喜欢吃快餐。有的人知道这样不健康，对自己的身体没有好处，但是他们还是不想吃蔬菜，就像以前的我一样。以前，妈妈每天都要做一些蔬菜给我吃，可是我总是先把肉吃了，剩下很多蔬菜。爸爸妈妈都非常担心，他们总是给我讲道理。

爸爸还去图书馆找到了一个很好的小故事：“在 1913 年，一些俄国人在船上吃完了他们带的蔬菜和水果，就只好吃面包和肉。过了一段时间，很多人开始生病，牙也开始出血，身体越来越差。有些人还死了，因为他们得了坏血病。由于他们长期不吃新鲜的蔬菜和水果，身体缺少维生素 C。维生素对身体健康很重要。如果身体里的维生素少了，人就容易生病。

我听了爸爸讲的故事以后，想了很长时间，然后说：“爸爸妈妈，今后我一定要多吃蔬菜和水果。”我希望你们读完这个故事以后，也可以开始多吃一些蔬菜和水果，这样你们会越来越健康。

1. 第一段中“否定的回答”是什么意思呢？

- A. 不喜欢吃蔬菜
- B. 喜欢吃蔬菜
- C. 不知道
- D. 不开心

2. 作者以前喜欢吃什么？

- A. 蔬菜
- B. 水果
- C. 面包
- D. 肉

3. 爸爸去哪里找到了船上的故事？

- A. 公司
- B. 图书馆
- C. 学校
- D. 家里

4. 船上的人为什么会生病？

- A. 因为他们吃了很多蔬菜；
- B. 因为他们没有吃蔬菜和水果；
- C. 因为他们喝了很多水；
- D. 因为他们喜欢吃肉

5. \_\_\_\_\_我不喜欢吃蔬菜，\_\_\_\_\_蔬菜对身体好，\_\_\_\_\_我要开始多吃一些蔬菜。

- A. 因为... 所以.... 最后
- B. 虽然... 但是... 所以
- C. 然而... 可是.... 就
- D. 不然... 所以... 可是

6. 由于没有蔬菜，船上的人只好吃\_\_\_\_\_和\_\_\_\_\_。
- A. 蔬菜，水果
  - B. 快餐，肉
  - C. 面包，肉
  - D. 水果，面包
7. 汉堡包，薯条这些食物都是\_\_\_\_\_。
- A. 中餐
  - B. 俄国饭
  - C. 快餐
  - D. 面包
8. 根据文章内容，经常不吃蔬菜会怎么样？
9. 请写出三个你最喜欢的蔬菜，并说一说这些蔬菜的颜色，形状和味道。

10. 除了多吃蔬菜和水果，我们还可以做很多其它的事情让身体越来越健康。请你用完整的句子再写出两种让身体变健康的方法。

11. 如果你的朋友不喜欢吃蔬菜，请你用四到五句话给他写一封信，告诉他多吃蔬菜的好处。

亲爱的\_\_\_\_\_，

---

---

---

---

---

---

你的朋友，

---

## 四年级社会科学阅读测试

姓名：\_\_\_\_\_ 日期：\_\_\_\_\_

请你读这篇短文然后再回答问题。

### 有机食物

最近，人们在讨论有机食物。有人认为有机食物比较健康。可是也有人认为买有机食物要花很多钱。

吃有机食物有很多好处。最大的好处是：有机食物不放有害的东西，可是不好的地方是买有机食物要花很多钱。如果有机食物和一般食物差不多，我们问什么要花两三倍的钱去买有机食物吗？

有些人建议，有机食物和一般食物都吃。像苹果和草莓这样的食物，不管洗多少次，也洗不掉表面上的有害的东西，所以最好买有机的。像香蕉、西瓜这样带皮的食物就不需要买有机的，因为我们不吃它们的皮。

这样用药多的食物买有机的，不用吃皮的食物，就买一般的。我们不用花太多钱就可以吃到健康的食物。



一. 选择题

1. 这篇文章讨论的是\_\_\_\_\_的问题。

- a. 运动
- b. 有机食物
- c. 疾病
- d. 环境

2. 有机食物的好处是：（            ）

- a. 有机食物用有害的东西
- b. 有机食物不用有害的东西
- c. 有机食物不健康
- d. 有机食物很贵

3. 文章中说哪些食物不用吃有机的？（            ）

- a. 草莓
- b. 苹果
- c. 香蕉
- d. 葡萄

二. 简答题

4. 根据文章内容，有机食物有哪些好的和不好的地方？

5. 你会选择有机食物还是一般食物？为什么？

6. 为什么有皮的水果不用吃有机的？

7. 你建议人人都选择有机食物吗？为什么？ E



请你读这篇短文然后再回答问题。

### 从新德里来的新学生

妮哈和妹妹索尼娅觉得在美国生活十分开心。去年秋天，这对姐妹离开了新德里，来到了纽约。今年，她们开始在学校读书了。在学校，她们还交了很多新朋友。

妮哈今年7岁，上一年级；5岁的索尼娅还在上幼儿园。妮哈说这里的学校和印度的很像。她们在印度上的是英语学校，每天会用英语学习，用的书也是美国学生用的。

妮哈刚来纽约时，感觉纽约和新德里一样，人都很多，只是纽约大街上的车比人还要多！

妮哈和索尼娅都喜欢吃印度菜，特别是一种叫“哈瓦尔”（halva）的甜点。不过，她们也慢慢开始喜欢美国的食物。

妮哈和索尼娅在新德里还有很多朋友，每次收到朋友的信，她们都很高兴。明年夏天，她们希望回到新德里和朋友见面。

#### 一. 选择题

1. 妮哈和索尼娅是什么关系？（            ）  
A. 兄弟                    B. 姐妹                    C. 母女                    D. 朋友
2. 根据课文，你觉得作者和妮哈是什么关系？（            ）  
A. 兄弟                    B. 姐妹                    C. 母女                    D. 朋友
3. 妮哈和索尼娅最喜欢吃什么？（            ）  
A. 汉堡包                  B. 印度菜                  C. 面条                    D. 水果

4. “妮哈刚来纽约时，感觉纽约和新德里一样，人都很多，只是纽约大街上的车比人还要多！”这句话是什么意思？（ ）

- A. 新德里有很多车；
- B. 新德里没有很多人；
- C. 纽约的车比新德里的车多；
- D. 纽约的车很少

5. 妮哈和索尼娅暑假想要做什么？（ ）

- A. 回印度
- B. 和朋友出去玩
- C. 呆在家里
- D. 去加州

6. 纽约是一个\_\_\_\_\_比\_\_\_\_\_多的城市。

- A. 人... 车
- B. 车... 人
- C. 食物... 人
- D. 车... 食物

7. 妮哈和索尼娅来到纽约\_\_\_\_\_。

- A. 写信
- B. 旅游
- C. 吃饭
- D. 上学

8. \_\_\_\_\_妮哈和索尼娅在印度还有很多朋友，\_\_\_\_\_她们想要回到新德里。

- A. 虽然 ... 但是...
- B. 不然... 可是...
- C. 因为... 所以....
- D. 一边 ... 一边...

## 二. 简答题

9. 你觉得妮哈和索尼娅喜欢美国的生活吗？为什么？

10. 为什么妮哈觉得美国的学校和印度的很像？

11. 如果你的班里有新同学，你会怎样帮助他？请写出至少三种方法。

12. 如果你是妮哈，请你用三句话跟你的印度朋友介绍一下你在美国的生活。

请你读这篇短文然后再回答问题。

### 环保购物袋

我家旁边有一个大超市，每个星期六，我都跟妈妈去那里买东西。

上个星期，我和妈妈准备去买东西。离开家以前，妈妈拿出了好几个袋子。每个袋子的颜色都不一样，大小也不同，有的大，有的小。

妈妈告诉我说：“我们今天带这些袋子去买东西。”

我觉得很奇怪，就问妈妈：“妈妈，为什么以前我们去买东西的时候，不用自己带袋子呢？”

妈妈说：“以前我们用什么装东西呢？”

我回答：“用塑胶袋啊！都会有四五个塑胶袋。”

妈妈说：“对。以前买东西的时候，商店会给塑胶袋。但是现在，如果你想要用塑胶袋，你就要花钱买。”

我不太明白，就问妈妈：“为什么商店要这样做呢？”

妈妈说：“因为现在的环境越来越差，用过的塑胶袋很容易污染环境。现在我们自己带袋子，每个袋子可以用很多次，这样就可以保护环境。”

我想了想，觉得很有道理。在学校，老师也教我要保护环境。每次用过的纸我们都会放进一个盒子里，以后还可以再用。我高高兴兴地选了一个红色的袋子。到了超市，真的看到每个人手里都拿着自己的袋子。

回家的路上，我非常高兴，因为我觉得自己为帮助环境做了一点儿事情。

1. 小孩子和他的妈妈用什么样的袋子? ( )

- A: 大袋子。
- B: 塑胶袋子。
- C: 朋友的袋子。
- D: 自己的袋子。

2. 你觉得为什么超市里面的人都拿着自己的袋子? ( )

- A: 因为他们不喜欢塑胶袋。
- B: 因为他们想保护环境。
- C: 因为塑胶袋很重。
- D: 因为自己的袋子要花钱买。

3. 妈妈带\_\_\_\_\_去超市买东西。

4. 帮助环境最好用\_\_\_\_\_袋子。

- A: 红色的
- B: 大的
- C: 塑胶
- D: 自己的

5. 【What other words could be written in the blank?】

回家的路上, 我非常\_\_\_\_\_, 因为我觉得自己为帮助环境做了一点儿事情。

- A: 生气
- B: 难过
- C: 开心
- D: 害怕

6. 请写出故事里两个描写袋子的词语。

7. 根据文章，为什么用自己的袋子比较好？

8. 如果你的家人去买东西，他们会用自己的袋子还是用商店的塑胶袋？为什么？



请你读这篇短文然后再回答问题。

### 感恩节的故事

很久以前，清教徒们坐五月花船从英国来到了美国。清教徒们没有食物吃，印第安人帮助他们种玉米。清教徒们没有房子住，印第安人帮助他们造房子。印第安人变成了清教徒们的好朋友。秋天到了，玉米熟了，印第安人带来了火鸡，和清教徒们一起庆祝。他们一起吃饭，一起唱歌和跳舞。清教徒们非常感谢印第安人的帮助。以后，每年十一月的第四个星期四就叫感恩节。现在，每年感恩节时，我们会和家人在一起吃火鸡大餐。

1. 看图请选出感恩节的日期？（            ）
- A. 11/4
  - B. 11/23
  - C. 11/16
  - D. 11/30

十一月						
星期日	星期一	星期二	星期三	星期四	星期五	星期六
			1	2	3	4
5	6	7	8	9	10	11
12	13	14	15	16	17	18
19	20	21	22	23	24	25
26	27	28	29	30		

2. 下面哪两项是清教徒们感谢印第安人的原因? ( )

- A. 印第安人帮助他们种玉米。
- B. 印第安人教他们游泳。
- C. 印第安人帮助他们做船。
- D. 印第安人帮助他们造房子。

3. 这个文章的题目可以是什么? ( )

- A. 清教徒们的旅行
- B. 印第安人的朋友
- C. 感恩节的故事
- D. 火鸡大餐的故事

4. 请写出两种印第安人帮助清教徒的方式。

A \_\_\_\_\_

B \_\_\_\_\_

5. 清教徒们坐\_\_\_\_\_来美国。

- A. 汽车
- B. 火车
- C. 船
- D. 飞机

6. 你觉得清教徒从\_\_\_\_\_ (国家) 来的。

简答题：请用句子或短语回答问题。

7. 你觉得感恩节在什么季节，为什么？

8. 如果你是清教徒，你会怎么帮助印第安人？请写出两种方式。

## 四年级数学测试

姓名: \_\_\_\_\_ 日期: \_\_\_\_\_

### 一. 选择题

1) 3,0509 和 3,0590 比较,

- a.  $3,0509 > 3,0590$
- b.  $3,0509 = 3,0590$
- c.  $3,0509 < 3,0590$

2) 四千万零六 和 400,0060 比较,

- a. 四千万零六  $< 400,0060$
- b. 四千万零六  $> 400,0060$
- c. 四千万零六  $= 400,0060$

3) 四则算式  $104 + 55 \times 27$  的答案是

- a. 1589
- b. 1489
- c. 1850
- d. 1380

4) 万圣节的时候,你和你的朋友去别人家要糖果。你的朋友拿到很多糖果。到最后他拿到了 1,123 颗糖果。你也拿到了很多糖果,你拿到了 1,332 颗糖果。下面那个说法正确?

- A:  $1,123 = 1,332$ ,
- B:  $1,332 < 1,123$ ,
- C:  $1,123 > 1,332$ ,
- D:  $1,435 > 1,231$

5). 爸爸跟小孩子说要给狗洗澡。小孩子每个星期要给狗洗 3 次澡。他给狗洗澡的时候想一个问题：如果他每星期给狗洗 3 次澡，一年之内给狗洗几次澡呢？他知道一年有 52 个星期。你觉得他要用什么方法解答这个问题？

- A: +
- B: -
- C: x
- D: ÷

6) 老师带一个比萨饼给同学吃。同学们都好高兴。比萨饼已经分成 16 块。班里有 8 个学生。如果每个学生要吃一样多的比萨饼，每个学生可以吃几块比萨饼？

- A: 1 块比萨饼
- B: 16 块比萨饼
- C: 32 块比萨饼
- D: 2 块比萨饼

7) 4 年级有 4 个不同的班。每个班有 24 个学生和一个老师。4 年级一共有 \_\_\_\_\_ ？

- A: 25 个人
- B: 48 个学生
- C: 100 个人
- D: 25 本书

8) 数字 13,670 中，百位数字是什么？

- A. 1
- B. 3
- C. 6
- D. 7

9) 小红有 15 颗糖，小明的糖果比小红的 3 倍还少 4 颗，请问小明有多少颗糖果？

- A. 4 颗
- B. 15 颗
- C. 41 颗
- D. 45 颗

10) 下面哪一个数列是按照从小到大排列的?

- A. 365      475      209      312      650  
B. 1,234    1,058    965      732      100  
C. 65,432   35,127   76,428   78,130   78,952  
D. 2,065    2,209    2,300    3,001    3,100

11) 63 是 9 的\_\_\_\_\_倍。

- A. 9                      B. 63                      C. 7                      D. 6

12) 一个蛋糕 27 元钱，花花买了 14 个蛋糕，花花一共花了\_\_\_\_\_元钱。

- A. 378                      B. 105                      C. 7                      D. 828

13) 三年级，四年级和五年级的小朋友要开派对，每个小朋友可以在派对上吃一盒冰淇淋：

三年级有 125 个小朋友

四年级有 207 个小朋友

五年级有 198 个小朋友

老师一共要买\_\_\_\_\_盒冰淇淋。

- A. 350                      B. 530                      C. 503                      D. 305

14) 纽约有八百零五万三千两百四十一个人。下列哪个数字是对的?

A. 8,053,241

B. 853,241

C. 8,052,341

D. 835,421

15) 妈妈有 4 包巧克力，每一包有 26 颗。请问妈妈一共有多少颗巧克力?

- A. 124 颗
- B. 30 颗
- C. 104 颗
- D. 134 颗

16) 请问  $900,000+30,000+5,000+60+7$  等于什么?

- A. 93,567
- B. 930,567
- C. 936,057
- D. 935,067

## 二. 填空题

请用中文或阿拉伯数字写出下面的数字。

1) 1,3641 \_\_\_\_\_

2) 307,8602 \_\_\_\_\_

3) 三百四十万二千六百零七 \_\_\_\_\_

4) 七十六万五千三百二十一 \_\_\_\_\_

5) 10 个十万是 \_\_\_\_\_

6) 请将下列数字从大排到小。

4,702      3,856      4,699      5,001

\_\_\_\_\_

7) 在数字 76,062 中, 请问千位的 6 是十位的 6 的 \_\_\_\_\_ 倍。

三. 应用题 (请写出计算过程并用完整句子回答问题):

1. 七月份有 150000 人来美国旅游(lǚyóu), 八月份(fèn)来美的人数比七月份(fèn)多 46000 人, 请问八月来美旅游的人数是多少人?

2. 杰克存(cún)了 506 元, 安妮存的钱是杰克的 12 倍, 请问安妮存了多少钱?

3. 一磅(bàng)苹果 24 元, 6 个人一起买了 15 磅。请问平均每人要付了多少钱?

4. 一个小朋友很想买一个新玩具, 问题是她没有钱。妈妈说她收拾一次房子就可以得到 4 块钱。一个玩具是 32 块钱。小朋友要收拾几次房子才可以买一个新玩具?



5. 老师要给学生买铅笔。她的班里有 27 个学生。可是两个学生要搬家，到别的学校去上学，所以她不用给这两个学生买铅笔。每个学生需要 15 支铅笔。老师一共要买多少支铅笔？请写出计算过程。

6. 莉莉有 900 元钱，她买了下面的东西：

- 一台电脑 792 元钱
- 一本书 36 元钱
- 一个玩具 23 元钱

请问莉莉还剩下多少元钱？

7. 老师有 168 颗糖果，老师将这些糖果平均分给 5 个小朋友，请问每个小朋友可以得到同样多的糖果吗？为什么？

8. 小玉有 34 朵花，小兰的花是小玉的 12 倍，请问她们一共有多少朵花？

9. 有一个数字，它的个位数字是 6，十位比个位数字大 3，百位数字是 5，千位比百位数字小 3，请问这个数字是什么？

10. 小文星期六读了 235 页的书，星期日读了 475 页的书。小华星期六读了 326 页的书，星期日读了 388 页的书。谁读的书比较多？多了多少页？

11. 语文老师有两个班。一个班有 27 个学生，另外一个班有 23 个学生。如果老师带全部的学生去看电影，每一张电影票要 11 块钱，请问老师一共要花多少钱？

12. 我的家有 6 个人，妈妈包了 72 颗饺子给我们吃。 请问每个人平均可以吃多少颗？

13. 小亮每天花 20 分钟读书，小明每天花 25 分钟读书。这个星期小亮读了 6 天的书，小明读了 5 天的书。请问谁读书的时间比较长？多了多少分钟？

# 五年级阅读测试

## 五年级中文阅读测试

姓名: \_\_\_\_\_ 日期: \_\_\_\_\_

请你读这篇短文然后再回答问题。

### 从墨西哥到圣地亚哥

你好，我叫玛利安娜，今年十岁了，现在在美国圣地亚哥的格林小学上四年级。一年前，我和我的家人一起从墨西哥搬到了这里。这次搬家，改变了我的生活。

首先，语言问题让我很烦恼。因为我在墨西哥的时候几乎不会英文，所以刚来美国的时候，我很紧张，担心英文不好会影响到我的学习。我不会说英文，上课听不懂怎么办？作业看不懂怎么办？我说的话同学听不懂怎么办？

一开始在学校，我一直很安静，不敢和同学、老师交流。我担心他们会笑我英文不好。不过，慢慢地，我发现老师和同学们都很有耐心，也很愿意帮我。而且，还有几位同学会说西班牙语，有时候也会帮我翻译、解释一下我没听懂的话。我觉得老师和同学变得越来越像我的家人了。

除了语言，别的变化也很大。我住的地方变小了。以前在墨西哥我有自己的房间，现在在圣地亚哥我要和两个姐姐挤在一个小房间里。另外，吃的东西也有了变化。我们家的餐桌上多了许多美式食品，比如说通心粉和汉堡包。

在圣地亚哥生活的一年中，我已经开始慢慢习惯美国的生活。现在，我在学校每天都非常努力地学习英语，等我的英文再好一些，就能帮我的家人更好地适应新生活了。

文章摘自 [ichinesereader.com](http://ichinesereader.com)

一、请圈出正确的答案：

1. 玛丽安娜一家是从哪里来的？（            ）  
A 墨西哥  
B 美国  
C 中国  
D 圣地亚哥
  
2. 为了帮助家人更好地适应新生活，玛丽安娜是怎么做的？（        ）  
A 工作  
B 帮家人做家务  
C 交很多的朋友  
D 努力地学习英语
  
3. 玛丽安娜是几年级的时候，从墨西哥搬到美国圣地亚哥？（        ）  
A 二年级  
B 三年级  
C 四年级  
D 五年级
  
4. \_\_\_\_\_ 玛利安娜担心老师和同学笑她英文不好， \_\_\_\_\_ 她在学校很安静。（            ）  
A 如果……就……  
B 不但……而且……  
C 因为……所以……  
D 除了……也……
  
5. 一开始在学校，玛丽安娜 \_\_\_\_\_ 很安静，不敢和同学、老师交流。下面哪一个词是“一直”的意思。（            ）  
A 总是  
B 有时候  
C 从不  
D 很少

二、请用完整的句子回答问题

6. 到了美国以后，玛丽安娜的生活有什么变化？

---

---

---

---

7. 为什么玛丽安娜觉得老师和同学们变得越来越像家人？

---

---

---

---

8. 你觉得如果玛丽安娜和家人可以再选一次，他们还会来美国吗？为什么？

---

---

---

---

请你读这篇短文然后再回答问题。

## 松 鼠

松鼠是一种美丽的小动物，很讨人喜欢。它四肢灵活，动作很快。小小的脸上，有着一对闪闪发光的小眼睛。身上灰色的毛非常光滑。一条毛茸茸的大尾巴总是向上翘着，显得格外漂亮。

松鼠喜欢住在高大的老树上，常常把窝建在树枝中间。它们做窝的时候，先搬来一些小树枝，放在一起，再找一些干草放在上面，然后把干草弄得又紧又平。窝建好了，还在上面加一个屋顶，把整个窝盖起来，这样就不怕风吹雨打了。它们带着儿女住在里边，又暖和，又安全。

松鼠常吃的食物是松子、榛子和橡栗，有时候也吃鸟蛋。它们吃东西的时候，常常直着身子坐在树枝上，用前爪捧着往嘴里送。秋天，松鼠就准备冬天的食物，把它们塞到老树的树洞里，塞得满满的。冬天，它们有时候也用爪子扒开厚厚的积雪，找雪底下的食物。

——选自[北师大版 第六册课文] 可爱的小生灵 松鼠

1. 松鼠是什么样子的？

- A 有毛茸茸的大尾巴
- B 灰色的毛非常的光滑
- C 有一对闪闪发光的小眼睛
- D 以上答案都对

2. 松鼠常吃的食物 \_\_\_\_\_ 有松子，榛子和橡栗， \_\_\_\_\_ 有鸟蛋。



- A 不但.....而且.....
- B 因为.....所以.....
- C 虽然.....但是.....
- D 如果.....就

3. 松鼠做窝的顺序是\_\_\_\_\_。

- A 先搬小树枝，再放在一起给窝加一个屋顶，然后把干草放在小树枝上面，最后把干草弄得又紧又平。
- B 先搬小树枝，放在一起，再把干草放在小树枝上面，然后把干草弄得又紧又平，最后给窝加一个屋顶。
- C 先给窝加一个屋顶，再搬小树枝，放在一起，然后把干草放在小树枝上面，最后把干草弄得又紧又平。
- D 先把干草弄得又紧又平，再给窝加一个屋顶，然后搬小树枝，放在一起，最后把干草放在小树枝上面。

4. \_\_\_\_\_ 和“毛茸茸”的结构不一样。

- A 胖乎乎
- B 绿油油
- C 黄橙橙
- D 小小的

5. 请你写出松鼠要在秋天的时候准备冬天的食物的原因（至少两个）。

---

---

---

6. 松鼠把窝做在高大的树枝中间有什么好处？

---

---

---

请阅读这篇文章再回答问题

### 月亮总是美好的

中国人特别喜欢月亮，中国有许多关于月亮的传说，例如：“嫦娥奔月”、“吴刚伐树”、“玉兔捣药”等等。

中国不但有关于月亮的传说，而且还有月亮的节日。月亮的节日有两个：一个是农历一月十五的元宵节；一个是农历八月十五的中秋节。

农历一月十五是新年的第一个圆月夜，月亮又大又圆。这天晚上家家户户吃元宵、点灯笼，庆祝圆月的到来。为什么这天晚上要吃元宵，要点灯笼呢？因为圆圆的元宵和明亮的灯笼就像天上的月亮一样。后来，人们把这一天叫做元宵节，也叫做灯笼节。

农历每个月的十五日，都是圆月夜，一年有十二个圆月夜。中国人觉得农历八月十五的月亮最圆、最亮、最好看。农历八月十五这天正好是秋天的中间，于是人们就把这一天叫做中秋节。

过中秋节的时候人们吃月饼，圆圆的月饼代表着家人团团圆圆。因为中秋节是家人团圆的节日，所以中秋节也叫团圆节。这一天在外地学习和工作的人，不管离家多远都要回来和家人团聚。

中国人喜欢月亮，因为月亮永远是美好的。人们高兴的时候，望着月亮吟诗、唱歌；人们伤心的时候，对着月亮述说心中的烦恼；人们睡不着的时候，静静地看着月亮，回想着童年的往事，思念着远方的亲友。

月亮总是美好的 ( the moon is always beautiful and other essays) published by  
Cheng & Tsui Company, Inc. (2008)

#### (一) 选择正确的答案

1. 中秋节也叫做什么节? ( )
  - A 元宵节
  - B 春节
  - C 灯笼节
  - D 团圆节
  
2. 一年有多少个圆月夜? ( )
  - A 十个
  - B 八个
  - C 十二个
  - D 一个
  
3. 中国人觉得农历哪一天的月亮最圆、最亮、最好看? ( )
  - A 一月十五
  - B 八月十五
  - C 五月十五
  - D 十二月十五
  
4. 为什么在中秋节, 中国人要吃月饼? ( )
  - A 月饼很好吃
  - B 圆圆的月饼代表家人团圆
  - C 没有别的食物可以吃
  - D 因为月饼是嫦娥做的
  
5. 这篇文章中关于月亮的传说有\_\_\_\_\_。
  - A 嫦娥奔月
  - B 吴刚伐树
  - C 玉兔捣药
  - D 答案 ABC 都对
  
6. \_\_\_\_\_农历八月十五这天正好是秋天的中间,  
\_\_\_\_\_人们就把这一天叫做中秋节。
  - A 因为..... 所以.....
  - B 虽然..... 但是.....

- C 不但.....而且.....
- D 如果.....就.....

7. 中国人\_\_\_\_\_庆祝元宵节, \_\_\_\_\_也庆祝中秋节。

- A 因为.....所以.....
- B 虽然.....但是.....
- C 不但.....而且.....
- D 如果.....就.....

8. 为什么中国人觉得月亮是美好的?

---

---

---

9. 想一想, 元宵节和中秋节一样和不一样的地方?

---

---

---

10. 对中国人来说月亮是美好的, 对你来说月亮怎样的? 为什么?

---

---

---

请阅读这篇短文然后回答问题

### 掩耳盗铃

从前有一个人叫李四，看见人家大门上有一个铃，这个铃特别精致，在阳光下闪闪发光，李四十分喜欢。于是，就想把人家的铃偷走，据为己有。但是，只要用手一碰，这个铃就会发出悦耳的声音，主人就知道门口有人。

因为这样，李四很烦恼，天天茶饭不思，想办法，整个人都瘦了。有一天，他家附近刚好有一群人经过，声音很大，他感到非常烦躁。于是就用手掩住了耳朵！这时，他突然发现声音没有了，他灵机一动：“不是同样的道理吗？如果铃声响起来，把耳朵掩住，不就没有声音了吗？”于是，李四来到那家人的门口，用手和棉球将自己的耳朵掩住，大胆地伸手去拿铃，没有想到铃的主人很快就跑出来，将李四当场捉住。

李四弄不明白为什么掩住耳朵，别人还能听到铃声呢？

选自——资优生必读：成语故事（下册）

1. 李四想去偷邻居的\_\_\_\_\_。

- A 耳朵
- B 铃
- C 大门
- D 棉球

2. ”灵机一动“是\_\_\_\_\_的意思。

- A 突然动了一下 i
- B 突然看见
- C 突然想到了办法
- D 突然听到

3. 李四想出怎么样的方法偷铃铛?

- A 用手和棉球掩住耳朵
- B 闭上眼睛
- C 用棉球盖住嘴巴
- D 戴上面具

4. 是什么帮助李四想到偷铃的办法?

- A 别人教他的
- B 他看到别人怎么做的
- C 他发现用手掩住自己的耳朵就听不到声音
- D 他发现用手掩住自己的眼睛就看不见了

5. 李四为什么很烦恼?

---

---

---

6. 请告诉李四为什么他掩住自己耳朵，别人还能听到铃声？

---

---

---

7. 你认为李四是一个怎样的人？为什么？

---

---

---



## 五年级社会科学阅读测试

姓名：\_\_\_\_\_ 日期：\_\_\_\_\_

请你读这篇短文然后再回答问题。

### 第一面星条旗的故事

每当星条旗升起的时候，你就会看到红色白色和蓝色。大家都知道，星条旗的红色代表勇气，白色代表自由，蓝色代表忠诚和正义。那么，到底有多少人知道关于第一面星条旗的故事呢？

1752年1月1日，贝琪出生在一个繁忙的城市，叫费城。贝琪出生的时候，美国还是英国的殖民地。家里的17个兄弟姐妹中，贝琪排行第八，她从小就在学校学习针线活。贝琪21岁的时候，搬到了新泽西州，开了一家做针线活的店。

1776年6月，乔治华盛顿拜访了贝琪的家，请她为美国制作一面国旗。华盛顿带来的国旗设计有13颗星和13条红白相间的条纹，代表着当时美国的13个州。13颗星原来有六个角，是六角星。贝琪拿出一块方布，折了几下，用剪刀一剪，摊开就成了一颗精致的五角星。

“看！五角星做起来很方便吧。只要剪一刀就做好了！”贝琪说道。华盛顿对贝琪的手艺称赞：“那么，就把六个角的星星改成五角星吧。”另外，贝琪还把13颗星围成一个圆圈。这样，第一面国旗的设计就完成了。不久，贝琪就根据这个设计，制作了第一面美国国旗——由星星和条纹组成的“星条旗”。

文章摘自 [ichinesereader.com](http://ichinesereader.com)

一、请圈出正确答案：

1. 第一面美国国旗上有\_\_\_\_\_星，\_\_\_\_\_红白相间的条纹。（      ）

- A 50 颗；13 条
- B 13 颗；13 条
- C 6 颗；13 条
- D 5 颗；13 条

2. 美国国旗上有\_\_\_\_\_种颜色。

- A 三
- B 五
- C 六
- D 八

3. 在美国国旗上，红色代表什么？（      ）

- A 勇气
- B 自由
- C 忠诚
- D 正义

4. 贝琪出生在哪个城市？（      ）

- A 华盛顿
- B 费城
- C 新泽西
- D 纽约

5. 1752 年，美国是哪个国家的殖民地？（      ）

- A 费城
- B 英国
- C 中国
- D 加拿大

6. 贝琪的家里一共有几个兄弟姐妹?

- A 6 个
- B 13 个
- C 8 个
- D 17 个

7. 贝琪\_\_\_\_\_年搬到搬到了新泽西州。

- A 1752
- B 1773
- C 1776
- D 1775

二、请用完整的句子回答下面问题:

8. 乔治华盛顿为什么觉得贝琪可以帮忙制作第一面美国国旗?

---

---

9. 为什么美国的国旗叫“星条旗”?

---

---

10. 华盛顿的国旗设计和贝琪做出来的第一面美国国旗有什么不一样?

---

---

11. 请画出第一面美国国旗。

12. 现在的美国国旗和贝琪做的第一面国旗有哪些相同和不同的地方?

---

---

---

请阅读这篇短文然后再回答问题

## 感恩节

在 1620 年 9 月，102 个英国人登上了“五月花号”船来到了美洲。1621 年，这些英国移民在当地印第安人帮助下获得了大丰收，过上了幸福的日子。就在这一年秋天，英国移民邀请印第安人一起庆祝大丰收，印第安人高兴地接受了邀请，送来了 5 只鹿作为礼物。11 月底的一天，移民们大摆筵席，桌子上摆满很多好吃的，有玉米，南瓜和火鸡等美味的食物。庆祝活动一共进行了 3 天，大家白天在一起享受美食，晚上一起跳舞、唱歌，非常热闹。这就是历史上的第一个感恩节。

从那以后，每年的十一月的第四个星期四，美国人都会庆祝感恩节。对美国人来说，感恩节是一个非常重要的节日。节日期间，人们都要赶回家过节，在感恩节的夜晚，家家户户都会准备感恩节大餐，火鸡和南瓜都是一定会有的。因此，感恩节也被称为“火鸡节”。现在，不仅美国人过感恩节，加拿大人也过感恩节。

选自 <http://www.globalsino.com/country/1/country99964.html>

一、请圈出正确答案：

1. 在 1620 年，英国人是怎么样来到美洲的？（        ）

- A 坐飞机
- B 骑马
- C 坐船
- D 坐火车

2. 在庆祝大丰收的时候，印第安人为英国移民送了什么礼物？（ ）

- A 五只鹿
- B 五个南瓜
- C 五只火鸡
- D 五个玉米

3. 在 1621 年的秋天，英国移民邀请印第安人一起庆祝大丰收，印第安人\_\_\_\_\_地接受了邀请。

- A 开心
- B 生气
- C 难过
- D 伤心

4. 在下面哪一天是感恩节？（ ）

- A 11 月 16 日
- B 11 月 24 日
- C 11 月 30 日
- D 11 月 23 日

十一月						
星期日	星期一	星期二	星期三	星期四	星期五	星期六
			1	2	3	4
5	6	7	8	9	10	11
12	13	14	15	16	17	18
19	20	21	22	23	24	25
26	27	28	29	30		

5. 现在，（ ）美国人过感恩节，加拿大人（ ）过感恩节。

- A 虽然……但是……
- B 因为……所有……
- C 除了……也……
- D 不但……而且……

6. 从上文中可以看出，下面哪一种不是美国人在感恩节常吃的食物？

- A 玉米
- B 火鸡
- C 南瓜
- D 月饼

7. 历史上的第一个感恩节在什么季节？

- A 春天
- B 夏天
- C 秋天
- D 冬天

二、请用完整的句子回答问题。

8. 感恩节为什么也叫“火鸡节”？

---

---

---

9. 英国移民和印第安人是怎么庆祝第一个感恩节的？

---

---

---

10. 你认为美国的感恩节和中国的哪一个节日相似？为什么？

---

---

---



请阅读这篇短文然后回答问题

### 哥伦布的故事

哥伦布是意大利的著名航海家。1451 年他出生于意大利。他从小就向往着海上航行。有一天，他读了一本书，书里讲到整个地球是圆形的。于是他就认为一直向西航行也许可以到达东方的国家。

24 岁时，他移民到西班牙，在国王的帮助下，他带领着 87 名船员，驾驶着 3 艘又破又旧的船，向蔚蓝色的大西洋进发。但是当时大多数人都认为地球是一个扁平的大盘子，谁也不知道在大西洋上一直向西航行会到哪里去，会发生什么事。就这样，他们向西，再向西，航行了一天又一天，一周又一周。2 个月零 6 天之后，很多船员都失去了信心。他们决定再走 3 天，3 天后如果还看不见陆地，船队就回去。就在第三天晚上，他们终于发现了陆地——美洲大陆。

哥伦布在人类历史上首次完成了横渡大西洋的航行，对以后的环球航行起到了非常重要的作用。

[第一文库网](http://www.wenku1.com)

(www.wenku1.com) 推荐书 ([www.tuijianshu.net](http://www.tuijianshu.net))

一、请圈出正确的答案：

1. 哥伦布是\_\_\_\_\_。

- A 美国人
- B 意大利人
- C 墨西哥人
- D 西班牙人

2. 在 \_\_\_\_\_ 的帮助下，哥伦布开始了海上航行。

- A 朋友
- B 家人
- C 意大利国王
- D 西班牙国王

3. 哥伦布认为地球的形状是\_\_\_\_，其他人认为地球的形状是\_\_\_\_\_。

- A 扁平；扁平
- B 扁平；圆形
- C 圆形；扁平
- D 圆形；圆形

4. 哥伦布经过\_\_\_\_\_ 到达美洲大陆。

- A 太平洋
- B 印度洋
- C 北冰洋
- D 大西洋

5. 哥伦布和船员们一共在海上航行了多少天？（            ）

- A 两个月零九天
- B 两个月零六天
- C 两个月
- D 两个月零三天

6. “就在第三天晚上，他们终于发现了陆地——美洲大陆。”  
“他们”指的是\_\_\_\_\_。

- A 国王和船员
- B 国王和哥伦布
- C 哥伦布和船员
- D 哥伦布

二、请用完整的句子回答问题：

7. 哥伦布为什么想要去海上航行？

---

---

---

8. 你觉得在海上航行了两个月零六天之后，是什么困难让很多船员失去了信心？

---

---

---

## 五年级数学测试

姓名: \_\_\_\_\_ 日期: \_\_\_\_\_

一. 请选出正确答案:

1. 在  $748 (97 - 87)$  中, 我们应该先算什么?

- A 74897
- B  $97 - 87$
- C 答案 A 和答案 B 都对
- D 答案 A 和答案 B 都不对

2.  $240 - 145$  的计算结果是什么?

- A 1130
- B 70
- C 170
- D 226

3. 校长带了 150 元去买早餐, 他买了 17 个甜甜圈, 每个 3 元, 请问他还剩下多少元? 下面哪一个算式是对的?

- A  $(150 - 17) \times 3$
- B  $17 \times 3 - 150$
- C  $150 - 17 - 3$
- D  $150 - (17 \times 3)$

4. 下面哪个答案是数字 4937512 的展开形式。( )

- A  $4000000 + 900000 + 3000 + 700 + 10 + 2$
- B  $4000000 + 900000 + 30000 + 7000 + 500 + 10 + 2$
- C  $4000000 + 900000 + 7000 + 300 + 50 + 2$
- D  $4000000 + 900000 + 30000 + 700 + 10 + 2$

5. 5 在 753924 中的值是多少 ?

- A 五百
- B 五千
- C 五万
- D 五十万

6. 按照下面一组数字的规律, 哪一个是正确的答案?

820346      810346      800346      \_\_\_\_\_

- A 799346
- B 790346
- C 809346
- D 789346

7. 4 米的绳子, 用去其中的 14, 还剩下几米?

- A 3 米
- B 2 米
- C 1 米
- D 4 米

8. 下面哪一个算术是不对的?

- A  $1 - 58 = 88 - 58$
- B  $1 - 58 = 8 - 58$
- C  $1 - 58 = 58 - 58$

9. 下面哪一个是不对的?

- A  $1 > 812$
- B  $812 < 912$
- C  $12 > 16$
- D  $34 < 24$

10. 小明在看一本 600 页的书，他看了这本书的 23，他看了几页呢？

A  $600 - 23$

B  $600 + 23$

C  $600 \times 23$

二. 填上正确的答案：

1. 在  $228 \div 762$  中，我们要先算\_\_\_\_\_。

2. 如果一个算式中没有括号，只有加法和乘法，我们要先计算\_\_\_\_\_。

3. 丽丽想要存 200 元买自行车，如果她每个星期存 10 元，6 个星期以后，她还需要再存\_\_\_\_\_元。

4. 一盒苹果有 24 个，香香买了 3 盒，如果把它们平分给 4 个人，每人能分到\_\_\_\_\_个苹果。

5. 用中文写出 95478 怎么读？

\_\_\_\_\_

6. 在数字 705000 中，数字\_\_\_\_\_是在十万位。

7. 在中国北京的一家体育馆里有 655482 个座位，上海的一家体育馆里的座位比北京的体育馆座位少 50000 个座位，上海体育馆有\_\_\_\_\_个座位。

8. 从大到小排列数字

36925

925360

360925

\_\_\_\_\_

下面的表格是关于一些国家的领土面积，请用这个表格回答第九和第十道问题。

国家	领土面积（平方英里）
加拿大	3851808
法国	211209
新加坡	268
美国	3717811

9. 哪一个国家的领土面积大约是 20 万平方英里？

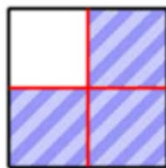
---

10. 哪几个国家的领土面积大于 1000000（一百万）平方英里？

---

11. 一盒铅笔，平均分给两个同学，每位同学得到的铅笔是\_\_\_\_\_盒。

12. 把一张正方形的纸平均分成 4 份，每份是它的\_\_\_\_\_，3 份是它的\_\_\_\_\_。



三. 请先读问题, 再解答, 请写下你的解答过程:

1. 买 9 盒披萨饼需要 108 元, 五年级的学生要开一个派对, 需要买 27 盒披萨饼, 一共要多少钱?

2. 下面是小红, 小蓝和小明一个星期跑步的记录表, 请问小红和小明一个星期一共跑了多少米?

	每天跑多少米	跑了几天
小红	1000 米	2 天
小蓝	500 米	3 天
小明	200 米	6 天

3. 请看下面两道题, 说说他们有什么相同和不同的地方?

A  $90 \div 30 \times 3$

B  $90 \div (30 \times 3)$

---

---

---



4. 哪个数字比较大， 712935 还是 712846? 为什么 ?

---

---

---

5. 爸爸买了一张饼，爸爸吃了  $\frac{1}{6}$ ，妈妈吃了  $\frac{2}{6}$ 。

(1) 他们一共吃了这张饼的几分之几?

(2) 还剩下几分之几?

6. 明明一口能喝一杯水的  $\frac{1}{2}$ ，红红一口能喝一杯水的  $\frac{1}{3}$ 。谁一口能喝多一点的水? 为什么?